



ΕΠΑΝΑΛΗΨΗ ΣΤΑ ΜΑΘΗΜΑΤΙΚΑ

Γ' ΤΑΞΗΣ



Αγαπημένα μου παιδιά, μένουμε  και εργαζόμαστε, χωρίς να ξεχνούμε όσα μάθαμε. Οι εργασίες πρέπει να γίνονται στις μέρες που σας ζητήθηκε, έτσι ώστε να μη μαζεύονται πολλές!

Σας στέλνω όλη μου την  και να θυμάστε ότι κι εγώ και οι δασκάλες σας, σας αγαπάμε πολύ κι ανυπομονούμε να σας δούμε από κοντά!!!

1. Βρες την απάντηση :

$2 \times 5 =$	$2 \times 9 =$	$3 \times 10 =$
$3 \times 8 =$	$6 \times 1 =$	$5 \times 4 =$
$4 \times 6 =$	$7 \times 8 =$	$6 \times 5 =$
$3 \times 9 =$	$3 \times 7 =$	$4 \times 9 =$
$6 \times 2 =$	$2 \times 10 =$	$6 \times 6 =$
$7 \times 0 =$	$6 \times 9 =$	$5 \times 8 =$
$5 \times 5 =$	$7 \times 6 =$	$2 \times 7 =$
$3 \times 3 =$	$8 \times 6 =$	$1 \times 9 =$
$4 \times 3 =$	$7 \times 4 =$	$3 \times 6 =$
$2 \times 5 =$	$9 \times 9 =$	$90 : 9 =$
$4 \times 8 =$	$6 \times 1 =$	$72 : 8 =$
$5 \times 6 =$	$7 \times 8 =$	$30 : 6 =$
$7 \times 9 =$	$5 \times 7 =$	$60 : 5 =$
$6 \times 4 =$	$22 \times 10 =$	$56 : 7 =$
$7 \times 0 =$	$6 \times 9 =$	$35 : 35 =$
$5 \times 12 =$	$7 \times 7 =$	$21 : 3 =$
$3 \times 11 =$	$8 \times 6 =$	$63 : 9 =$
$4 \times 3 =$	$6 \times 7 =$	$32 : 4 =$

2. Βρες τον αριθμό:

- ◆ Είναι τριψήφιος αριθμός μεγαλύτερος από 600 και μικρότερος από 700
- ◆ Το ψηφίο των μονάδων είναι είναι το 0.
- ◆ Τα ψηφία των δεκάδων και των εκατοντάδων είναι άρτιοι αριθμοί.

- ◆ Το ψηφίο των εκατοντάδων είναι μεγαλύτερο από το ψηφίο των δεκάδων.
- ◆ Το άθροισμα των ψηφίων του αριθμού είναι 10.



Ο αριθμός είναι :

3. Πρόσθεση τριψήφιων αριθμών (με υπερπήδηση ή χωρίς υπερπήδηση)

Μην ξεχάσεις το κρατούμενο



$323+$	$456+$	$568+$	$135+$	$736+$
$\underline{235}$	$\underline{424}$	$\underline{129}$	$\underline{603}$	$\underline{145}$

4. Αφαίρεση τριψήφιων αριθμών (με ή χωρίς δανεισμό)

$567-$	$956-$	$874-$	$545-$	$405-$
$\underline{123}$	$\underline{38}$	$\underline{127}$	$\underline{119}$	$\underline{357}$

5. Επίλυση προβλημάτων (πρόσθεσης και αφαίρεσης)

α) Ένα πλυντήριο στοιχίζει €535 και μια τηλεόραση €155. Πόσα στοιχίζουν και τα δυο ηλεκτρικά είδη μαζί;

Εξίσωση:

Απάντηση:


.....

β) Ο κύριος Μιχάλης κρατεί €624. Ο κύριος Ιάσωνας κρατεί €378. Πόσα περισσότερα χρήματα κρατεί ο κύριος Μάρκος από τον κύριο Αντώνη;

Εξίσωση:

Απάντηση:

.....
.....



Μπράβο παιδιά!!!