

**Ο ΜΥΘΟΣ ΤΟΥ ΜΙΝΩΤΑΥΡΟΥ
Ο ΜΥΘΟΣ ΤΟΥ ΔΑΙΔΑΛΟΥ ΚΑΙ ΤΟΥ ΙΚΑΡΟΥ
ΚΑΙ
ΤΟ ΠΑΛΑΤΙ ΣΤΟΥ ΜΙΝΩΑ ΣΤΗΝ ΚΡΗΤΗ**

Την εποχή του χαλκού η Κύπρος αλλά και πολλές περιοχές γύρω από την Κύπρο γνώρισαν μεγάλη ανάπτυξη.



Μυκήνες

Μικρά Ασία

Κρήτη

Παλαιστίνη

Αίγυπτος



Η Κρήτη ήταν μια από τις περιοχές που γνώρισε μεγάλη ανάπτυξη και έγινε πολύ πλούσια την εποχή του χαλκού. Ο πλούτος αυτός φαίνεται, ανάμεσα στα άλλα, και από το παλάτι της Κνωσού.



1. Τα σπουδαιότερα κέντρα του Μινωικού πολιτισμού.

Το παλάτι όπως
είναι σήμερα.




Το παλάτι όπως
είναι σήμερα.



Το παλάτι όπως
είναι σήμερα.



Αναπαράσταση του
παλατιού της Κνωσού.



Ένα μικρό βίντεο που θα σε βοηθήσει να γνωρίσεις καλύτερα το παλάτι της Κνωσού.

<https://vimeo.com/183068652>

Αφού δεις τα πιο πάνω δοκίμασε να κάνεις τη σελίδα 30 από το βιβλίο Ιστορίας Γ' τάξης, Μέρος Γ' ή βρες το στον ακόλουθο σύνδεσμο και γράψε τις απαντήσεις σου σε ένα τετράδιο ή στις κάρτες εργασίας.

http://archeia.moec.gov.cy/sd/202/c_taxi_meros_c.pdf

Πάμε να διαβάσουμε τον μύθο
του Μινώταυρου και του Θησέα;
Θα τον βρεις στη σελίδα 32 στο
βιβλίο Ιστορίας Γ' τάξης, Μέρος Γ'
ή στον ακόλουθο σύνδεσμο:
[http://archeia.moec.gov.cy/sd/202/c_taxi_mer
os_c.pdf](http://archeia.moec.gov.cy/sd/202/c_taxi_mer
os_c.pdf)





Αφού διαβάσεις με προσοχή τον μύθο πάρε ένα χρώμα και χρωμάτισε όσα στοιχεία σου φαίνονται φανταστικά. Αν δεν έχεις το βιβλίο σημείωσε στο τετράδιό σου ή στις κάρτες εργασίας σου τρία – πέντε στοιχεία/γεγονότα που σου φαίνονται φανταστικά!



Στη συνέχεια προσπάθησε να σκεφτείς ποιες ιστορικές αλήθειες κρύβονται πίσω από τον μύθο. Δες την επόμενη διαφάνεια, θα σε βοηθήσει.

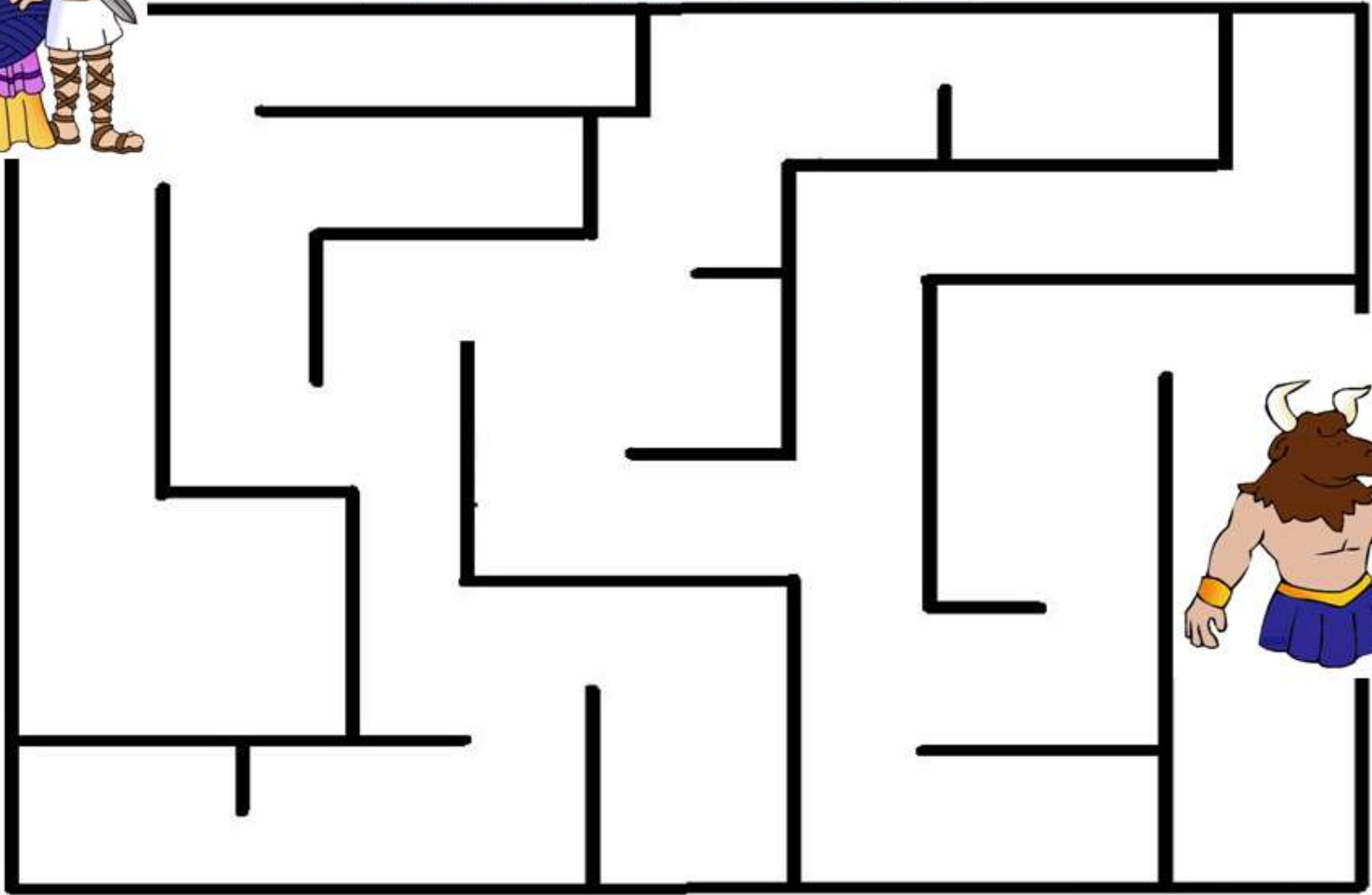


- Γιατί άραγε οι άνθρωποι φαντάστηκαν ότι στο παλάτι της Κνωσσού υπήρχε ένας λαβύρινθος; Θέλεις να ξαναδείς την αναπαράσταση του παλατιού; Μήπως έχει να κάνει με το μέγεθός του;
- Γιατί η Αθήνα έπρεπε να πληρώνει φόρο στην Κρήτη; Ποια από τις δύο περιοχές μπορεί να ήταν πιο ισχυρή την Εποχή του Χαλκού;

Σημείωσε στο βιβλίο σου ή στις κάρτες εργασίας ή σε τετράδιο τις σκέψεις σου.




Η Αριάδνη έδωσε τον μίτο στον Θησέα
κι εκείνος τότε φέρθηκε γενναία,
τον Μινώταυρο προσπάθησε να βρει,
μπορείς να τον βοηθήσεις για να μην χαθεί;




Πάμε να διαβάσουμε ακόμα έναν
μύθο που σχετίζεται με το παλάτι
της Κνωσσού: Τον μύθο του
Δαίδαλου και του Ίκαρου. Θα τον
βρεις στη σελίδα 33 στο βιβλίο
Ιστορίας Γ' τάξης, Μέρος Γ' ή στον
ακόλουθο σύνδεσμο:
[http://archeia.moec.gov.cy/sd/202/c_taxi_mer
os_c.pdf](http://archeia.moec.gov.cy/sd/202/c_taxi_mer
os_c.pdf)




Σκέψου και βάλε τις
εικόνες στη σειρά.



1



2



3





Αφού διαβάσεις με προσοχή τον μύθο πάρε ένα χρώμα και χρωμάτισε όσα στοιχεία σου φαίνονται φανταστικά. Αν δεν έχεις το βιβλίο σημείωσε στο τετράδιό σου ή στις κάρτες εργασίας σου τρία – πέντε στοιχεία/γεγονότα που σου φαίνονται φανταστικά!



Στη συνέχεια προσπάθησε να σκεφτείς ποιες ιστορικές αλήθειες κρύβονται πίσω από τον μύθο. Δες και την επόμενη διαφάνεια.



- Άραγε υπήρχαν και την Εποχή του Χαλκού, όπως και σήμερα, σπουδαίοι τεχνίτες που έφτιαχναν σπουδαία πράγματα για την εποχή τους;
- Πώς σκέφτηκε ο Δαίδαλος την ιδέα να πετάξουν για να φύγουν; Τι παρατηρούσαν οι άνθρωποι για να φτιάξουν πολλά από τα εργαλεία τους;



Σημείωσε στο βιβλίο σου ή στις κάρτες εργασίας ή σε τετράδιο τις σκέψεις σου.

Εντόπισε στον χάρτη τη θάλασσα που πήρε το όνομά της από τον Αιγέα, τον πατέρα του Θησέα.

Εντόπισε στον χάρτη τη θάλασσα που πήρε το όνομά της από τον Ίκαρο.

